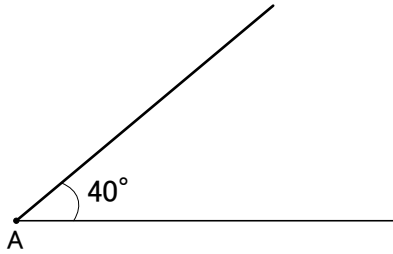


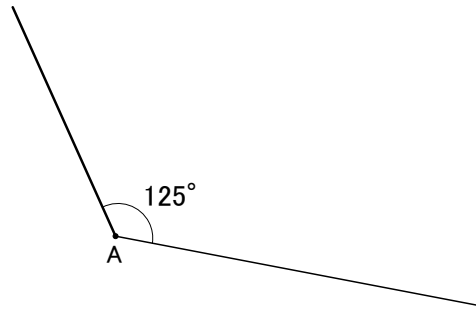
3年3学期 第1回
2本の直線で作れるもの 解答

3 ページ目

◇ (1)



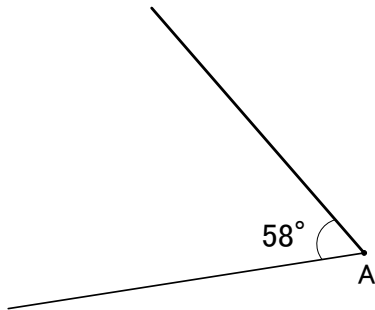
(2)



◆ (1) 147° (1度までのずれは正解^{せいかい})

(2) 325° (1度までのずれは正解^{せいかい})

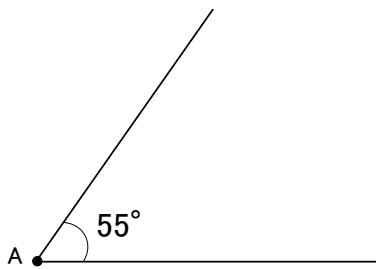
◆



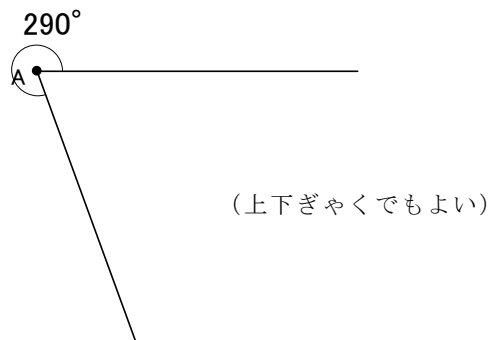
< 練習問題 >

① 角 A 120° 角 B 80° 角 C 70° 角 D 90° 直角なのは、角 D

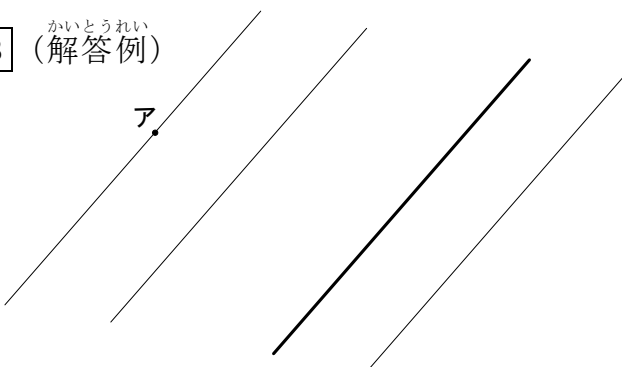
② (1)



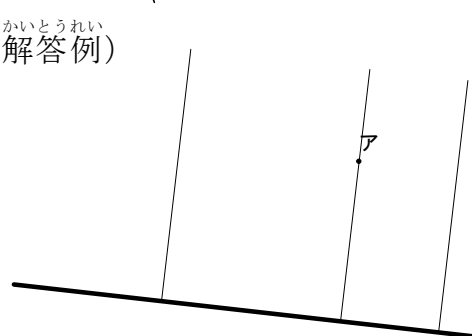
(2)



③ ^{かいとうれい} (解答例)



④ ^{かいとうれい} (解答例)



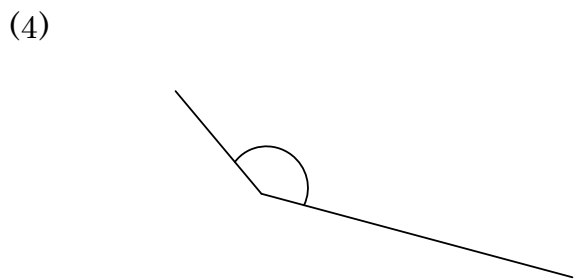

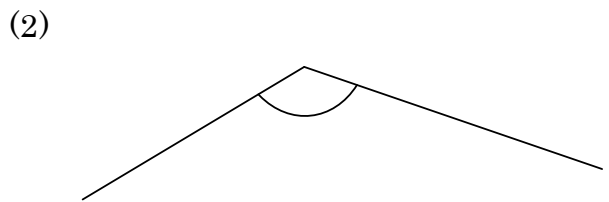
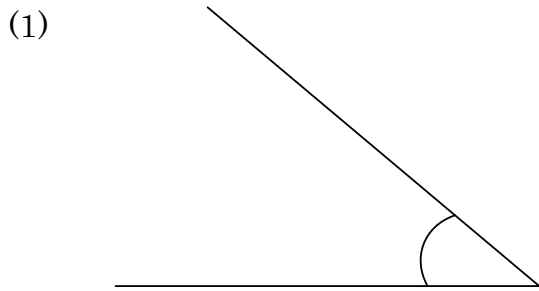
ついかもんだい
＜追加問題＞

もっと練習したい人はチャレンジ!



※ 分度器ぶんどきや三角定規じょうぎが正しく使つかえているか、おうちの人に見てもらいましょう。

1 分度器ぶんどきを使つかって、次つぎの角の大きさをはかりましょう。



2 三角定規じょうぎを使い、右の線に平行で、点 A を通る線を引きましょう。また、右の線に垂直すいちよくで、点 A を通る線も引きましょう。

A ●



追加問題の答え

- 1 (1) 40° (2) 130° (3) 260° (4) 145°

(1度までのずれは正解としてかまいません)

2

